

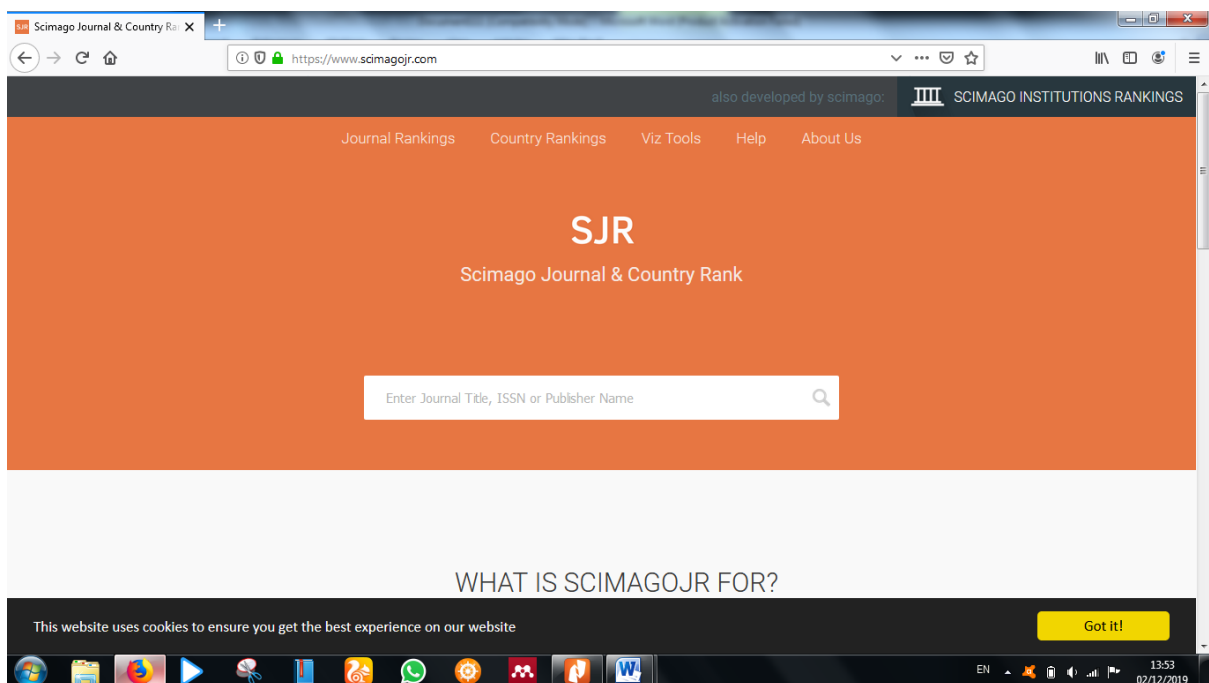
SOAL UTS KIMIA MATERIAL

Berdasarkan piramida material, performa suatu material dalam suatu aplikasi tertentu tidak akan optimal bila hubungan antara struktur, sifat, dan proses sintesis material tidak saling melengkapi satu sama lain. Terkait hal tersebut:

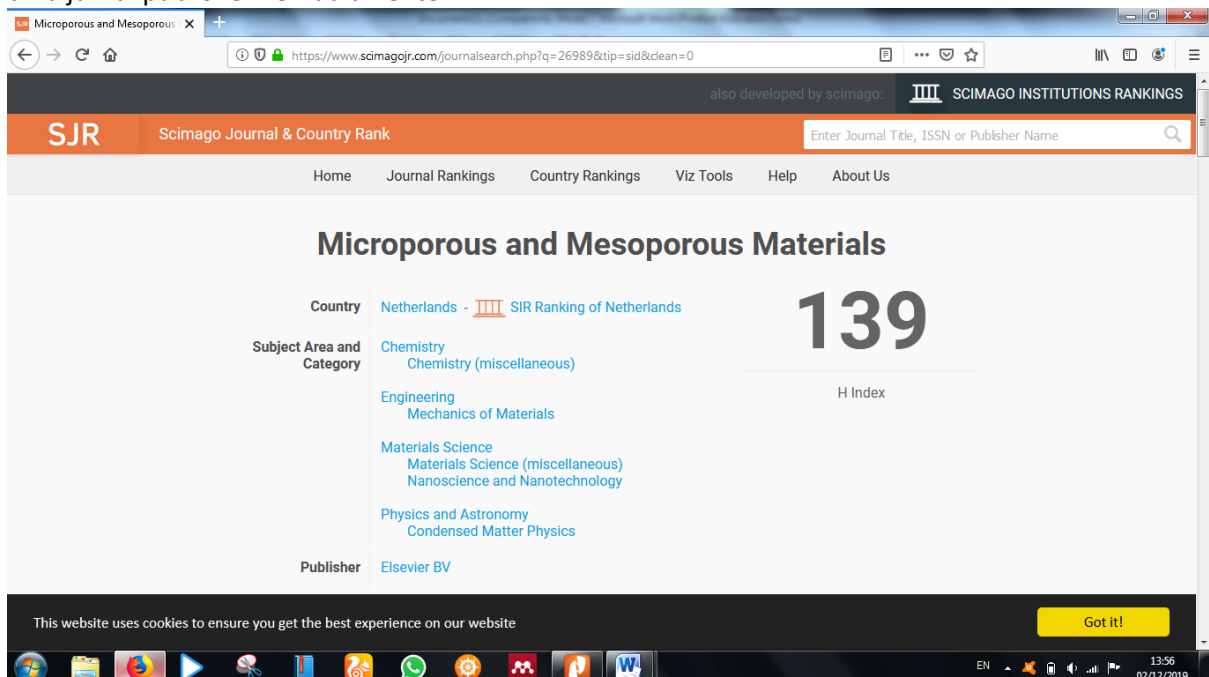
1. Carilah artikel jurnal internasional bereputasi terindex scopus (Q1 – Q4) yang membahas suatu material kimia atau aplikasi material kimia.
2. Pada bagian Introduction, identifikasilah struktur dan sifat dari material yang dikaji berdasarkan penelitian yang telah dilakukan oleh peneliti lain serta urgensi dari material yang sedang dikaji.
3. Pada bagian Result and Discussion, identifikasilah bagaimana terkait struktur dan sifat dari material yang sedang dikaji.
4. Kerjakan dengan cara diketik dalam kertas A4; Arial 11pt; 1,5 spasi; 2,2,2,2; .docx. Tulis Nama, NPM, Kelas di sudut kiri atas.

Cara mengecek kelompok jurnal:

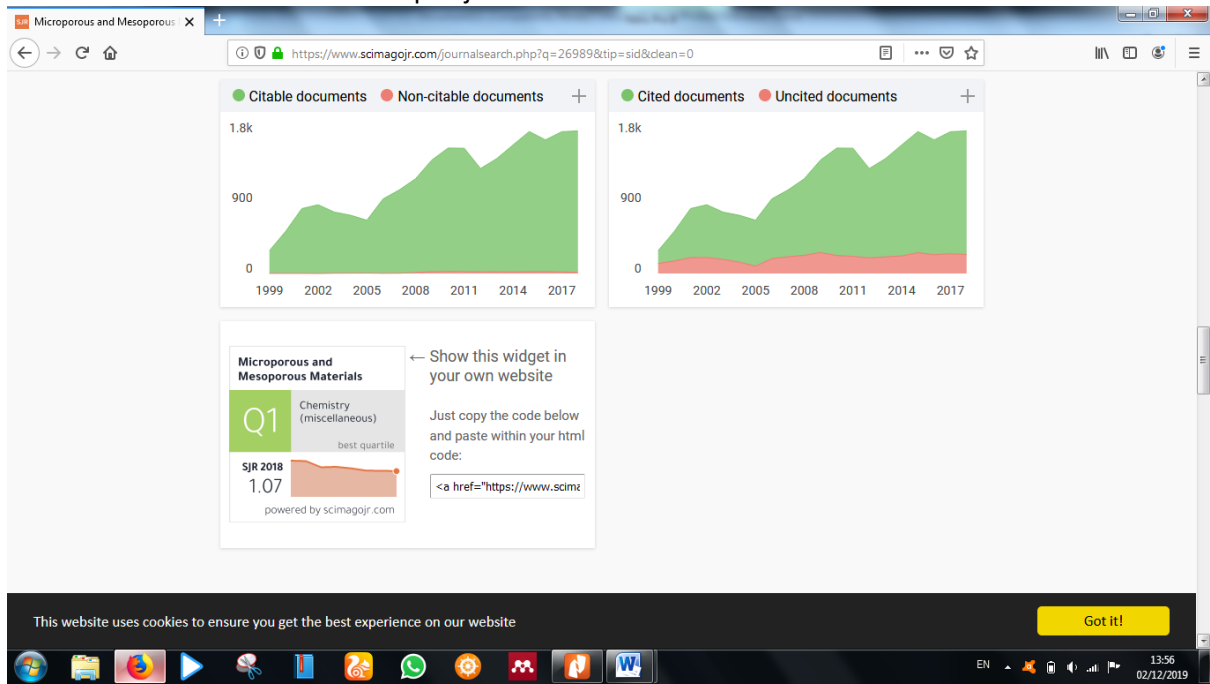
Berselancarlah di: <https://www.scimagojr.com>



Ketiklah nama jurnal publisher kemudian enter



Scroll ke bawah untuk melihat kuartil kelompok jurnal



Unggah paling lambat dikumpul tanggal 20 November 2020 jam 10.00

_ Selamat Mengerjakan _